

คำแนะนำสำหรับครู

1. ศึกษาแผนการจัดการเรียนรู้ ประกอบด้วยสาระสำคัญ ผลการเรียนรู้ที่คาดหวัง สาระการเรียนรู้ กิจกรรมการเรียนรู้ การสอน สื่อการเรียนการสอน การวัดผล ประเมินผล
2. ศึกษาบทเรียนสำเร็จรูปตั้งแต่กรอบแรกถึงกรอบสุดท้าย ทั้งสาระการเรียนรู้ และกิจกรรมการเรียนรู้ให้เข้าใจ
3. ศึกษาว่ากิจกรรมการเรียนรู้ในกรอบใดที่ครูต้องเป็นผู้ให้คำแนะนำ หรือให้คำปรึกษา
4. ชี้แจงการใช้บทเรียนสำเร็จรูปให้ผู้เรียนเข้าใจ และปฏิบัติตามขั้นตอนทุกกรอบ
5. ถ้าผู้เรียนศึกษาบทเรียนแล้วยังไม่เข้าใจ ครูควรชี้แนะ และส่งเสริมให้ผู้เรียนได้ฝึกปฏิบัติ ทั้งที่บ้านและที่โรงเรียน จะทำให้เข้าใจบทเรียนดียิ่งขึ้น

คำชี้แจงสำหรับ

บทเรียนสำเร็จรูปที่นักเรียนจะได้เรียนต่อไปนี้เป็น
บทเรียนที่นักเรียนจะ

ได้เรียนรู้ด้วยตนเองตามความสามารถของแต่ละบุคคล
โดยปฏิบัติตาม

ขั้นตอนดังนี้

1. บทเรียนนี้เป็นบทเรียนสำเร็จรูปแบบเส้นตรงมี
ทั้งหมด 11 กรอบ
(รวมกรอบนำ)
2. เมื่อเริ่มเรียนจะต้องเปิดบทเรียนที่ละหน้าตามลำดับ
และห้ามเปิด
ข้ามหน้า หรือศึกษาตามกรอบเนื้อหาเรียงลำดับทุก
กรอบ
3. ก่อนศึกษาบทเรียนให้ทำแบบทดสอบก่อนเรียน
4. ระหว่างที่ทำการศึกษบทเรียนจะมีแบบฝึกหัดให้
ทำสลับกับเนื้อหา โดยผู้เรียนจะต้องเลือกตอบหรือ
เขียนตอบให้ตรงกรอบคำถามตามลำดับภายใน
กรอบ
5. นักเรียนไม่ควรข้ามกรอบเพราะในแต่ละกรอบมี
เนื้อหาที่ต่อเนื่องกัน
6. เมื่อนักเรียนเขียนคำตอบลงในกระดาษคำตอบแล้ว
นักเรียนสามารถตรวจสอบคำตอบได้โดยกรอบ
เฉลยจะอยู่ในหน้าถัดไป

7. นักเรียนต้องมีความซื่อสัตย์ต่อตนเองโดยไม่ดูเฉยเลย
ก่องลงมือทำแบบฝึกหัดหรือแบบทดสอบก่อนเรียน
และหลังเรียน
8. ศึกษาบทเรียนให้เข้าใจและตอบคำถามทีละข้อ ถ้า
ตรวจคำตอบแล้วไม่ถูกต้องให้ย้อนกลับไปศึกษา
กรอบความรู้เดิมที่ผ่านมา จนกว่าจะเข้าใจและทำ
ได้ถูกต้องแล้วจึงทำกรอบต่อไป
9. ให้นักเรียนเขียนคำตอบลงในกระดาษคำตอบที่ครู
แจกให้เท่านั้น
10. เมื่อศึกษาเนื้อหาจบแล้วและทำแบบฝึกหัดครบ
ทุกข้อแล้วให้นักเรียนทำแบบทดสอบหลังเรียนเพื่อ
ดูความก้าวหน้าในการศึกษา





บทเรียนสำเร็จรูป**หน่วยการเรียนรู้ : ทวีปยุโรป****เล่มที่ 1 เรื่อง สภาพแวดล้อมทางกายภาพของทวีปยุโรป****สาระสำคัญ**

ลักษณะภูมิประเทศของทวีปยุโรป มีความแตกต่างกัน
ในแต่ละภูมิภาค
ส่งผลต่อการดำเนินชีวิตของมนุษย์

จุดประสงค์การเรียนรู้

1. ใช้เครื่องมือทางภูมิศาสตร์ในการอธิบายทำเลที่ตั้ง และ
อาณาเขตติดต่อ
ของทวีปยุโรปได้

สาระการเรียนรู้

1. เครื่องมือทางภูมิศาสตร์ที่แสดงลักษณะทางกายภาพ
และสังคมของทวีปยุโรป
2. ลักษณะทางกายภาพของทวีปยุโรป

พวกเราเรียนรู้ไป
พร้อม ๆ กันนะ



เผยแพร่บนเว็บไซต์
www.kroobannok.com

แบบทดสอบก่อน

เรื่อง สภาพแวดล้อมทางกายภาพของทวีปยุโรป เวลา 10 นาที

คำชี้แจง ให้นักเรียนทำเครื่องหมาย X ลงบนคำตอบที่ถูกต้องที่สุดเพียงข้อเดียว

1. อิทธิพลของลักษณะในข้อใดที่ส่งผลให้ทวีปยุโรปกลายเป็นทวีปที่หนาวเย็นมากที่สุด

- ก. ตำแหน่งที่ตั้ง
- ข. ลักษณะภูมิอากาศ
- ค. โครงสร้างทางธรณีวิทยา
- ง. ทรัพยากรธรรมชาติ

2. ทวีปยุโรปมีอาณาเขตทางทิศตะวันออกติดต่อกับเอเชียซึ่งมีผู้เรียกทวีปทั้งสองรวมกันว่าอะไร

- ก. อูเรเชีย
- ข. อูโรเชีย
- ค. ยูเรเชีย
- ง. ยูโรเชีย

3. ทวีปยุโรปมีอาณาเขตติดต่อกับทวีปเอเชียทางทิศใด

- ก. ทิศใต้ ทิศเหนือ
- ข. ทิศใต้ ทิศตะวันออก
- ค. ทิศใต้ ทิศตะวันตก
- ง. ทิศตะวันตก ทิศเหนือ

4. ข้อความใด ไม่ถูกต้อง เกี่ยวกับทวีปยุโรป

ก. เทือกเขาอูราลและแม่น้ำอูราลเป็นพรมแดนธรรมชาติ
ระหว่างทวีปยุโรปกับทวีป
เอเชีย

ข. ที่ตั้งตามแนวละติจูดทวีปยุโรปตั้งอยู่ในซีกโลกเหนือทั้งหมด

ค. ทวีปยุโรปเป็นทวีปที่มีชายฝั่งทะเลเว้าแหว่งมากที่สุดในโลก

ง. ทะเลเมดิเตอร์เรเนียนเป็นทะเลภายในที่มีขนาดใหญ่ที่สุด
ตั้งอยู่ทางเหนือสุด
ของทวีปยุโรป

5. ข้อใดต่อไปนี้มีแสดงความสัมพันธ์ได้ถูกต้อง

ก. คาบสมุทรบอลข่าน – ยุโรปเหนือ

ข. คาบสมุทรสแกนดิเนเวีย – ยุโรปตะวันออก

ค. ทะเลสาปแคสเปียน – ยุโรปตะวันตก

ง. ทะเลเมดิเตอร์เรเนียน – ยุโรปใต้

6. ประเทศใดในทวีปยุโรปที่มีพื้นที่น้อยที่สุด

ก. อังดอร์รา

ข. โมนาโก

ค. วาติกัน

ง. ซานมาริโน

7. ประเทศใดในทวีปยุโรปที่มีจำนวนประชากรมากที่สุด

ก. ประเทศรัสเซีย

ข. ประเทศสเปน

ค. ประเทศโปรตุเกส

ง. ประเทศอิตาลี

8. ประเทศใดต่อไปนี้อยู่บนคาบสมุทรบอลข่าน

- ก. ประเทศอิตาลี
- ข. ประเทศมาซิโดเนีย
- ค. ประเทศสเปน
- ง. ประเทศเยอรมันนี

9. ข้อใดต่อไปนี้เป็นกล่าวได้ถูกต้อง

- ก. ประเทศซานมาริโนเป็นประเทศที่เล็กที่สุดในยุโรป
- ข. แหลมตารีฟา อยู่ในประเทศสเปน
- ค. เทือกเขาอูราลอยู่ทางตอนใต้ของทวีปยุโรป
- ง. ประเทศส่วนใหญ่ในทวีปยุโรปอยู่ต่ำกว่าเส้นทรอปิกออฟ

แคนเซอร์

10. เพราะเหตุใดน่านน้ำทางตอนเหนือของทวีปยุโรป เช่น ทะเลแบเรนต์จึงมีความสำคัญ

ทางเศรษฐกิจน้อยมาก

- ก. อยู่ห่างไกลจากมหาสมุทรแอตแลนติก
- ข. มีพายุและคลื่นลมแรงตลอดปี
- ค. ในฤดูหนาวทะเลจะปกคลุมไปด้วยน้ำแข็ง ทำให้ไม่สามารถเดินเรือได้
- ง. เป็นบริเวณที่ไม่มีประชากรอยู่อาศัย

อย่าลืมตรวจคำตอบ

นะครับเพื่อน ๆ



เฉลยแบบทดสอบก่อนเรียน

ยินดีต้อนรับ

เข้าสู่

บทเรียนสำเร็จรูป

เรื่อง

สภาพแวดล้อมทาง

กายภาพ

ของทวีปยุโรป



ยุโรปเป็นทวีปที่มีความสำคัญมาตั้งแต่สมัยโบราณเป็นศูนย์กลางความเจริญทั้งทางด้านเศรษฐกิจสังคม วัฒนธรรม เทคโนโลยี ติดต่อกันมาโดยตลอด ทวีปยุโรปเป็นทวีปที่มีขนาดใหญ่เป็นอันดับ 6 จากจำนวน 7 ทวีป โดยมีขนาดใหญ่กว่าทวีปออสเตรเลียเพียงทวีปเดียว

ทวีปยุโรปมีประชากรหนาแน่นที่สุดในโลกเนื่องจากมีปัจจัยหลายอย่างที่เกี่ยวข้องการตั้งถิ่นฐาน เช่น มีภูมิประเทศที่เป็นที่ราบลุ่มแม่น้ำที่อุดมสมบูรณ์ มีภูมิอากาศอยู่ในเขตอบอุ่น มีความเจริญก้าวหน้าทางวิทยาศาสตร์และเทคโนโลยีสูง เป็นแหล่งอารยธรรมที่เป็นมรดกตกทอดมาจนถึงปัจจุบัน คือ อารยธรรมกรีกและโรมัน

ปัจจุบันยุโรปยังคงมีบทบาทและความสำคัญอย่างมากในทุก ๆ ด้าน เพราะเป็นทวีปที่มีประชากรมาก ผู้คนส่วนใหญ่มีคุณภาพชีวิตสูงและมีฐานะทางเศรษฐกิจดี





ขนาดพื้นที่

ทวีปยุโรปมีขนาด มีพื้นที่ประมาณ 10 ล้านตารางกิโลเมตร

มีขนาดใหญ่เป็นลำดับที่ 6 ของโลก รองจากทวีปเอเชีย แอฟริกา อเมริกาเหนือ อเมริกาใต้ แอนตาร์กติกา แต่ใหญ่กว่าออสเตรเลีย เป็นทวีปที่อยู่บนผืนแผ่นดินเดียวกับทวีปเอเชีย มีลักษณะคล้ายกับเป็นคาบสมุทรใหญ่ของทวีปเอเชีย จึงมีผู้เรียกทวีปยุโรปและเอเชียรวมกันว่า “ยูเรเชีย” พรมแดนธรรมชาติที่ใช้เป็นแนวแบ่งทวีปยุโรปกับทวีปเอเชียออกจากกัน คือแนวเทือกเขายูรัลและแม่น้ำยูรัล

อย่าลืมทำ
แบบฝึกหัดที่

1 นะครับ
เพื่อน ๆ



ที่มา : <http://www.worldatlas.com>

แบบฝึกหัดที่ 1

ทวีปยุโรปและทวีปเอเชียรวมกันเรียกว่า

.....

เปิดไปกรอบที่ 2

เผยแพร่บนเว็บไซต์
www.kroobannok.com

กรอบ

เฉลย

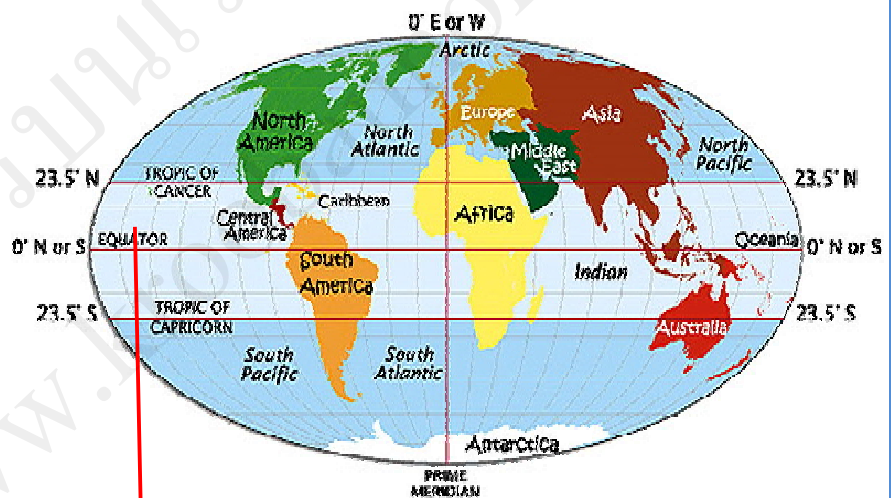
แบบฝึกหัดที่ 1

“ยูเรเชีย”

ละติจูด
23.5
องศา
เหนือ มี

**ที่ตั้ง**


ทวีปยุโรปตั้งอยู่ระหว่างละติจูดประมาณ 36 องศาเหนือ ถึง 71 องศาเหนือ และลองจิจูดประมาณ 9 องศาตะวันตก ถึง ลองจิจูดประมาณ 66 องศาตะวันออก กล่าวคือ ทวีปยุโรป มีพื้นที่ทั้งหมดอยู่เหนือเส้นทรอปิกออฟแคนเซอร์ (ละติจูดที่ 23.5 องศาเหนือ) ซึ่งอยู่ในเขตอากาศอบอุ่นเหนือเกือบทั้งหมด ยกเว้นตอนเหนือสุดของทวีปเท่านั้นที่อยู่ในเขตอากาศหนาวเหนือ

ที่มา : <http://www.italyin30seconds.wordpress.com>**เส้นทรอปิกออฟแคน**

แบบฝึกหัดที่ 2

ทวีปยุโรปตั้งอยู่ระหว่างละติจูดที่ (1).....ถึง
(2).....
และลองจิจูดที่ (3).....ถึง.....

เปิดไปกรอบที่ 3



เผยแพร่บนเว็บไซต์
www.kroobannok.com

กรอบ

เฉลี่ย

แบบฝึกหัดที่ 2

1. 36 องศาเหนือ

2. 71 องศาเหนือ

3. 9 องศาตะวันตก

4. 66 องศาตะวันออก

ตอบถูกเก่งมาก
ครับแต่ถ้าตอบ
ผิดต้องกลับไป
ทบทวนใหม่



ทิศเหนือ

ติดต่อกับมหาสมุทรอาร์กติก และมีทะเลต่าง ๆ ได้แก่ ทะเลขาว ทะเลแบเรนต์ส น่านน้ำเหล่านี้มีความสำคัญทางเศรษฐกิจน้อยมาก เพราะในฤดูหนาวจะปกคลุมไปด้วยน้ำแข็ง ใช้เดินเรือไม่ได้ คาบสมุทรสำคัญด้านนี้ ได้แก่ คาบสมุทรสแกนดิเนเวีย คาบสมุทรจัตแลนด์

ที่



ที่มา : <http://www.worldatlas.com>

1

มหาสมุทร
อาร์กติก

2

ทะเลแบ

3

ทะเลขาว

แบบฝึกหัดที่ 3

เพราะเหตุใดน้ำในน้ำแถบมหาสมุทรอาร์กติกจึงมี
ความสำคัญทางเศรษฐกิจน้อย

เปิดไปกรอบที่ 4


กรอบ

เฉลย

แบบฝึกหัดที่ 3

เพราะในฤดู
หนาว
น้ำ
เหล่านี้อากาศ
ไปด้วย
น้ำแข็ง

รางวัลสำหรับ
คนเก่งจ้า



อาณาเขตติดต่อ

ทิศตะวันออก

ติดต่อเป็นพื้นแผ่นดินเดียวกันกับทวีปเอเชีย โดยมีเทือกเขาอูรอลแม่น้ำอูรอล และทะเล



ที่มา : <http://www.worldatlas.com>

1

เทือกเขาอู
รัล

2

ทะเลสาบแคสเปียน

แบบฝึกหัดที่ 4

ทวีปยุโรปมีอาณาเขตทางทิศตะวันออกติดต่อกับทวีป

.....

เปิดไปกรอบที่ 5

กรอบ

เฉลย

แบบฝึกหัดที่ 4
ทวีปเอเชีย

ตอนนี้รู้กัน
หรือยังว่าทวีป
ยุโรปนั้นตั้งอยู่
ในส่วนใดของ
โลกเรา



ทิศตะวันตก

ติดต่อกับมหาสมุทรแอตแลนติกมีทะเล
ต่าง ๆ ได้แก่ ทะเลนอร์วีเจียน ทะเลเหนือ ทะเล
ไอริช และทะเลบอลติก

เกาะสำคัญทางด้านนี้ ได้แก่ เกาะ
บริเตนใหญ่
เกาะไอร์แลนด์ และเกาะไอซ์แลนด์



ที่มา : <http://www.worldatlas.com>

1

ทะเลนอร์วี

2

ทะเลเหนือ

3

ทะเลบอล

4

เกาะ

5

เกาะ

6

เกาะบริเตน



แบบฝึกหัดที่ 5 ทิศตะวันตกของทวีปยุโรป มีเกาะที่สำคัญได้แก่

กรอบ

เฉลยแบบฝึกหัด
ที่ 4

เกาะบริเตน
ใหญ่
เกาะไอร์แลนด์
เกาะไอซ์แลนด์



นี่คือ
ภาพช่อง
แคบ
ยิบรอลตาร์ ที่

เปิดไปกรอบที่ 6



ทิศใต้

ติดต่อกับทวีปเอเชีย โดยมีแนวเทือกเขาคอเคซัส และทะเลดำเป็นพรมแดน มีทะเลเมดิเตอร์เรเนียนเป็นน่านน้ำใหญ่ทางตอนใต้ คั่นระหว่างทวีปยุโรปกับทวีป แอฟริกา คาบสมุทรด้านใต้ที่สำคัญ ได้แก่ คาบสมุทรไอบีเรีย คาบสมุทรอิตาลี คาบสมุทรบอลข่าน และคาบสมุทรไคเมีย ดินแดนทางใต้สุดของทวีปยุโรป คือแหลมตาริฟา ในช่องแคบยิบรอลตาร์ ประเทศสเปน



ที่มา : <http://www.worldatlas.com>



1

ช่องแคบยิบ

2

ทะเลเมดิเตอร์เร

3

ทะเลดำ

4

คาบสมุทรไอบีเรีย

5

คาบสมุทรบอลข่าน

6

คาบสมุทรไครเมีย

แบบฝึกหัดที่ 6 ดินแดนทางตอนใต้สุดของทวีปยุโรป คือ

.....

เปิดไปรอบที่ 7

กรอบ

เฉลยแบบฝึกหัด
ที่ 5 เกลมตา
รีฟา ในช่อง
แคบยิบรอลตาร์
ประเทศสเปน

ประเทศใน
ยุโรปเหนือคง
จะหนาวมากนะ
เพื่อน ๆ ว่าไงจ๊ะ



ภูมิภาคและประเทศในทวีปยุโรป



ทวีปยุโรป : ภูมิภาคและประเทศ เนื้อที่ ประชากร
(พ.ศ. 2553)

ประเทศ	ประชากร (ล้านคน)	เนื้อที่ (ตร. กม.)	เมืองหลวง
1 ไอซ์แลนด์	0.3	102,828	เรคยาวิก
2 นอร์เวย์	4.9	400,900	ออสโล

			6	
3	สวีเดน	9.4	449,79	สตอกโฮล์ม
4			2	
	ฟินแลนด์	5.4	337,03	เฮลซิงกิ
5			2	
	เอสโตเนีย	1.3	45,100	ทาลลินน์
6	ลัตเวีย	2.2	63,701	รีกา
7	ลิทัวเนีย	3.3	65,201	วิลนีอัส
8	เดนมาร์ก	5.5	43,069	โคเปนเฮเกน
9	สหราชอาณาจักร	62.2	244,11	ลอนดอน
			0	
10	ไอร์แลนด์	4.5	68,857	

เปิดไปรอบที่ 8

เปิดไปกรอ



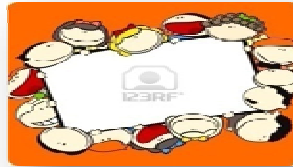
ยุโรป

ยุโรป
ตะวันตกมี
ประเทศ
อะไรบ้าง



ประเทศ	ประชากร (ล้านคน)	เนื้อที่ (ตร. กม.)	เมืองหลวง
1 เนเธอร์แลนด์	16.6	41,525	อัมสเตอร์ดัม
2 เบลเยียม	10.8	30,513	บรัสเซลส์
3 ฝรั่งเศส	63.0	551,45	ปารีส
4 เยอรมนี	81.6	356,73	เบอร์ลิน
5 อิตาลี		8	

	สวีตเซอร์แลนด์	7.8	41,287	เบิร์น
	6 ลักเซมเบิร์ก	0.5	2,587	ลักเซมเบิร์ก
	7 ลิกเตนสไตน์	0.04	161	ฟาดุซ
	8 ออสเตรีย	8.4	83,851	เวียนนา
	9 โมนาโก	0.04	1.95	โมนาโก



ประเทศ	ประชากร (ล้านคน)	เนื้อที่ (ตร. กม.)	เมืองหลวง
1 สาธารณรัฐ เช็ก	10.5	78,866	ปราก
2 โปแลนด์	38.2	312,75 8	วอร์ซอ
3 สโลวา 4 คี	5.4	49,011	บราติสลา วา
ฮังการี	10.0	93,030	บูดาเปสต์
5 ยูเครน	45.9	603,70	เคียฟ
		1	

6 เบลารุส	9.5	207,600	มินสก์
7 รัสเซีย	141.9	17,075,383	มอสโก
8 โรมาเนีย	21.5	237,500	บูคาเรสต์
9 บัลแกเรีย	7.5	110,912	โซเฟีย
10 มอลโดวา	4.1	33,701	คีชีเนา

มินสก์
กรอบที่ 9

เผยแพร่บนเว็บไซต์
www.kroobannok.com



ยุโรป

ประเทศที่
เล็กที่สุด
ในโลก
อยู่ใน
ยุโรปได้
คือนคร
รัฐ
วาติกัน



ประเทศ	ประชากร (ล้านคน)	เนื้อที่ (ตร. กม.)	เมืองหลวง
1 โปรตุเกส	10.7	131,945	ลิสบอน
2 สเปน	47.1	504,742	มาดริด
3 อิตาลี	60.5	301,217	โรม
4 บอสเนียและ เฮอร์เซโกวิท	3.8	51,129	ซาราเยโว
5 สโลวีเนีย	2.1	20,251	ลูบลิยานา

6 โคเอเซีย	4.4	56,537	ซาเกร็บ
7 แอลเบเนีย	3.2	28,748	ติรานา
8 เซอร์เบีย	7.3	102,173	เบลเกรด
9 กรีซ	11.3	131,945	เอเธนส์
10 มอลตา	0.4	246	วัลเลตตา

ถ้าอ่าน
แล้วไม่
เข้าใจ
ลอง
ดูสิ...



ยุโรป

ประเทศ	ประชากร (ล้านคน)	เนื้อที่ (ตร. กม.)	เมืองหลวง
11 นครรัฐ วาติกัน	0.00082 6	0.44	วาติกัน
12 แอนดอร์รา	0.1	468	อันดอร์รา ลา เวลลา
13 มอน เตเนโกร	0.6	14,062	พอตกอริต กา
14 มาซิโดเนีย	2.1	25,333	สโกเปีย
15 ซานมา รีโน	0.03	61	ซานมารีโน

กรอบที่ 11

แหล่งข้อมูล:

เนื้อที่จาก

<http://www.nationsencyclopedia.com>

จำนวนประชากรจาก 2010 World Population Data Sheet.

จากกรอบที่ 6 – กรอบที่ 10 ทวีปยุโรปมีเนื้อทั้งหมด 23 ล้านตารางกิโลเมตร มีขนาดใหญ่เป็นอันดับ 6 ของ

โลก มีจำนวนประชากรประมาณ 72,759 ล้านคน (พ.ศ. 2552) จัดแบ่งออกเป็น 4 ภูมิภาค (แบ่งตามการแบ่งกลุ่มของสหประชาชาติ) คือ ภูมิภาคยุโรปเหนือ ยุโรปตะวันออก ยุโรปตะวันตก และยุโรปใต้

เนื้อที่ทั้งส่วนที่อยู่ในทวีปยุโรปและทวีปเอเชีย เนื่องจากประเทศรัสเซียมีเนื้อที่อยู่ที่ทั้ง 2 ทวีปคือตั้งอยู่ทางตะวันออกของทวีปยุโรปและทางตอนเหนือของทวีปเอเชีย

แบบฝึกหัดที่ 6

1. ประเทศที่มีจำนวนเนื้อที่น้อยที่สุดในทวีปยุโรปคือ
2. ประเทศที่มีจำนวนประชากรน้อยที่สุดในทวีปยุโรปคือ

.....

เผยแพร่บนเว็บไซต์
www.kroobannok.com


กรอบ**เฉลย**
แบบฝึกหัดที่ 6

1. นครรัฐ
วาติกัน
2. นครรัฐ
วาติกัน



อย่าลืม
ทำ
แบบทดสอบ
หลัง
เรียน
นะคะ





แบบทดสอบหลัง

เรื่อง สภาพแวดล้อมทางกายภาพของทวีปยุโรป เวลา 10 นาที

คำชี้แจง ให้นักเรียนทำเครื่องหมาย X ลงบนคำตอบที่ถูกต้องที่สุดเพียงข้อเดียว

1. อิทธิพลของลักษณะในข้อใดที่ส่งผลให้ทวีปยุโรปกลายเป็นทวีปที่หนาวเย็นมากที่สุด
ก. ทรัพยากรธรรมชาติ
ข. ตำแหน่งที่ตั้ง
ค. โครงสร้างทางธรณีวิทยา
ง. ลักษณะภูมิอากาศ
2. ทวีปยุโรปมีอาณาเขตทางทิศตะวันออกติดต่อกับเอเชียซึ่งมีผู้เรียกทวีปทั้งสองรวมกันว่าอะไร
ก. ยูเรเชีย
ข. ยูโรเชีย
ค. อูโรเชีย
ง. อูเรเชีย
3. ทวีปยุโรปมีอาณาเขตติดต่อกับทวีปเอเชียทางทิศใด
ก. ทิศใต้ ทิศตะวันตก
ข. ทิศตะวันตก ทิศเหนือ
ค. ทิศใต้ ทิศเหนือ
ง. ทิศใต้ ทิศตะวันออก
4. ข้อความใด ไม่ถูกต้อง เกี่ยวกับ ทวีปยุโรป
ก. ที่ตั้งตามแนวละติจูดทวีปยุโรปตั้งอยู่ในซีกโลกเหนือทั้งหมด

ข. ทะเลเมดิเตอร์เรเนียนเป็นทะเลภายในที่มีขนาดใหญ่ที่สุด
ตั้งอยู่ทางเหนือสุด

ของทวีปยุโรป

ค. เทือกเขาอูรอลและแม่น้ำอูรอลเป็นพรมแดนธรรมชาติ
ระหว่างทวีปยุโรปกับทวีป

เอเชีย

ง. ทวีปยุโรปเป็นทวีปที่มีชายฝั่งทะเลเว้าแหว่งมากที่สุดในโล

5. ข้อใดต่อไปนี้มีแสดงความสัมพันธ์ได้ถูกต้อง

ก. ทะเลสาปแคสเปียน – ยุโรปตะวันตก

ข. คาบสมุทรบอลข่าน – ยุโรปเหนือ

ค. ทะเลเมดิเตอร์เรเนียน – ยุโรปใต้

ง. คาบสมุทรสแกนดิเนเวีย – ยุโรปตะวันออก

6. ประเทศใดในทวีปยุโรปที่มีพื้นที่น้อยที่สุด

ก. โมนาโก

ข. วาติกัน

ค. อังดอร์รา

ง. ซานมาริโน

7. ประเทศใดในทวีปยุโรปที่มีจำนวนประชากรมากที่สุด

ก. ประเทศสเปน

ข. ประเทศอิตาลี

ค. ประเทศรัสเซีย

ง. ประเทศโปรตุเกส

8. ประเทศใดต่อไปนี้ตั้งอยู่บนคาบสมุทรบอลข่าน

ก. ประเทศเยอรมันนี

- ข. ประเทศสเปน
- ค. ประเทศมาซิโดเนีย
- ง. ประเทศอิตาลี

9. ข้อใดต่อไปนี้นักสาวได้ถูกต้อง

- ก. แหลมตารีฟา อยู่ในประเทศสเปน
- ข. ประเทศซานมาริโนเป็นประเทศที่เล็กที่สุดในยุโรป
- ค. ประเทศส่วนใหญ่ในทวีปยุโรปอยู่ต่ำกว่าเส้นทรอปริกออฟ

แคนเซอร์

- ง. เทือกเขาอูราลอยู่ทางตอนใต้ของทวีปยุโรป

10. เพราะเหตุใดน่านน้ำทางตอนเหนือของทวีปยุโรป เช่น ทะเลแบเรนต์สจึงมีความสำคัญ

ทางเศรษฐกิจน้อยมาก

- ก. เป็นบริเวณที่ไม่มีประชากรอยู่อาศัย
- ข. มีพายุและคลื่นลมแรงตลอดปี
- ค. อยู่ห่างไกลจากมหาสมุทรแอตแลนติก
- ง. ในฤดูหนาวทะเลจะปกคลุมไปด้วยน้ำแข็ง ทำให้ไม่สามารถ

เดินเรือได้



ตรวจคำตอบแล้ว
เปรียบเทียบคะแนน
ก่อนเรียนและหลังเรียน
ด้วยครับ

เฉลยแบบทดสอบหลังเรียน

1. ข
2. ก





บรรณานุกรม

กมล ทองธรรมชาติ และคณะ. โลกของเรา. กรุงเทพมหานคร : บริษัท อักษรเจริญทัศน์ อจท จำกัด 2545.

จำรัส น้อยแสงศรี. ภูมิศาสตร์ภูมิภาค กรุงเทพมหานคร องค์การคำครูสภา, 2547.

ไพบุลย์ บุญไชย. ภูมิศาสตร์กายภาพเบื้องต้น. กรุงเทพมหานคร : โอเดียนสโตร์, 2549

วิโรจน์ เอี่ยมเจริญ. ภูมิศาสตร์ ม.2. กรุงเทพมหานคร : บริษัท อักษรเจริญทัศน์ อจท จำกัด มปป.
สมมต สมบูรณ์ และคณะ. ภูมิศาสตร์ ม.2. กรุงเทพมหานคร : วัฒนาพานิช มปป.

The World Almanac and Book of facts 2010. New Jersey: World Almanac Education Group,
2010.

แผนที่ทวีปยุโรป (ออนไลน์), แหล่งที่มา : <http://www.worldatlas.com>, วันที่สืบค้น 2
เมษายน
2553.

แผนที่แสดงเขตภูมิประเทศของทวีปยุโรป (ออนไลน์), แหล่งที่มา : <http://www.worldatlas.com>,
วันที่สืบค้น 2 เมษายน 2553.

2010 WORLD POPULATION DATA SHEET, (ออนไลน์), แหล่งที่มา : www.prb.org.
วันที่สืบค้น 2 เมษายน 2553.

เผยแพร่บนเว็บไซต์
www.kroobannok.com